





۱۵	ضرب و تقسیم کنید و عبارت درستی تقسیم را بنویسید	$58740 \overline{) 152}$	$\begin{array}{r} 610 \\ \times 300 \\ \hline \end{array}$	$\begin{array}{r} 352 \\ \times 207 \\ \hline \end{array}$	۲
۱۶	در یک تقسیم مقسوم علیه ۶۴ و خارج قسمت نصف مقسوم علیه و باقی مانده ۱۲ مقسوم را بدست آورید				۰/۵
۱۷	هر شکل چند خط تقارن دارد رسم کنید				۰/۵
۱۸	مجموع پول سه نفر روی هم ۶۵۰۰ تومان است اگر پول اولی ۲۴۵۰ تومان باشد و دومی ۵۰۰ تومان بیشتر از اولی داشته باشد پول سومی چند تومان است				۱
۱۹	پدر علی ۶۰ ساله است علی از ثلث سن پدرش ۷ سال بیشتر دارد علی چندساله است				۱
۲۰	مادر فاطمه با ۲۷ متر پارچه ۹ مانتو دخترانه دوخته است حساب کنید برای دوخت هر مانتو چند متر پارچه مصرف شده است اگر قیمت هر متر پارچه ۴۵۰۰ تومان باشد قیمت تمام شده یک مانتو چند تومان است				۱
۲۱	می خواهیم ۱۶ بسته ده تایی مداد را بین ۸ نفر تقسیم کنیم به هر نفر چند مداد می رسد				۰/۷۵
۲۲	قلب یک کودک در هر دقیقه ۱۱۵ بار می زند قلب او در ۳ ساعت چند بار می زند				۱
	مساحت مستطیلی ۴۵۰ متر مربع است اگر عرض آن ۱۸ متر باشد طول آن را بدست آورید و سپس محیط آن را بدست آورید				۱
	باغچه ای داریم به شکل مربع که طول ضلع آن ۱۲۰ متر است می خواهیم دور آن را ۳ دور سیم خاردار بکشیم چند متر سیم لازم داریم				۱
	مساحت قسمت رنگ شده را بدست آورید				۰/۵